




Découvrir

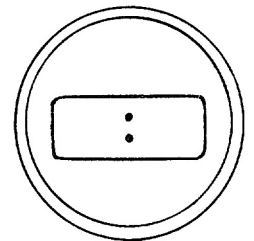
Rendez-vous au cinéma

Audrey donne rendez-vous à ses amis : « Rendez-vous cet après-midi à trois heures moins le quart, nous aurons le temps de prendre les billets et de discuter avant la séance de quinze heures quinze. Mettons tous nos montres à l'heure : il est onze heures moins dix. »

- a** Clémence a une montre à aiguilles et Antoine, une montre à affichage numérique, **metts-les à l'heure.**

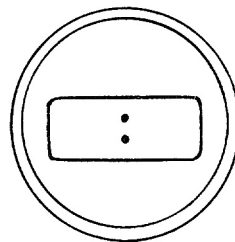



Clémence



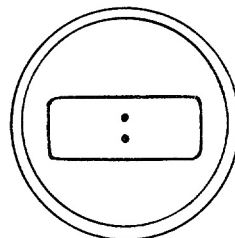

Antoine

- b** Écris l'heure du rendez-vous de trois façons différentes.



En lettres :

- c** Écris l'heure de la séance de trois façons différentes.



En lettres :

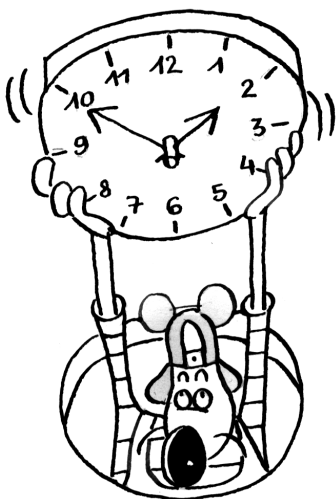
- d** Complète les réponses.

Avant la séance, les amis disposeront de :
 ____ minutes ; soit ____ quarts d'heure ; ou encore ____ demi-heure.

1 Complète le tableau.

Quand la grande aiguille est sur...	1	2	3	4	5	6	7	8	9	10	11
on lit, en minutes...	5										

2 Écris, en face de chaque cadran, l'heure qui convient.



04:55

5 heures moins 5 minutes

08:50

__ heures moins __ minutes

09:35

__ heures moins __ minutes

11:40

__ heures moins __ minutes

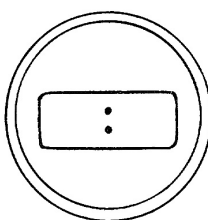

20:50

__ heures moins __ minutes

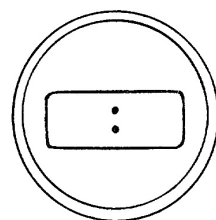

3 Le vainqueur de la Route du Rhum 1998

Parti de Saint-Malo, le dimanche huit novembre à trois heures dix de l'après-midi, Laurent Bourgnon est arrivé vainqueur à Pointe-à-Pitre le vingt novembre à dix heures moins vingt du soir.

■ Indique, sur les cadrans ci-dessous, les heures de départ et d'arrivée de Laurent Bourgnon.



Départ



Arrivée

■ Calcule la durée de sa traversée.

| Lire et écrire l'heure